

**ZADANIE 1**  
ROZPOZNAJ INTERWAŁY


1	2	3	4	5	6	7	8	9	10
---	---	---	---	---	---	---	---	---	----

**ZADANIE 2**  
ROZPOZNAJ AKORDY


1	2	3	4	5	6	7	8	9	10
---	---	---	---	---	---	---	---	---	----

**ZADANIE 3**  
NA PODSTAWIE WIADOMOŚCI Z POPRZEDNIEJ LEKCJI NAPISZ GAMĘ **G – DUR**  
ORAZ **c – moll** W ODMIANIE DORYCKIEJ, A TAKŻE ZBUDUJ TRIADĘ HARMONICZNĄ  
W TONACJI **ES – DUR** ORAZ **h – moll**





**GAMA G – DUR**







**GAMA c – moll dorycka**



**TRIADA HARMONICZNA W ES – DUR**



## TRIADA HARMONICZNA W h – moll



NA NASTĘPNĄ LEKCJĘ ZALICZENIE Z INTERWAŁÓW, TRÓJDŹWIĘKÓW ORAZ  
ZNAJOMOŚCI GAM DUROWYCH I MOLOWYCH DO 4 ZNAKÓW PRZYKLUCZOWYCH