


ZADANIE 1
ROZPOZNAJ INTERWAŁY

| | | | | | | | | | |
|---|---|---|---|---|---|---|---|---|----|
| 1 | 2 | 3 | 4 | 5 | 6 | 7 | 8 | 9 | 10 |
|---|---|---|---|---|---|---|---|---|----|


ZADANIE 2
ROZPOZNAJ TRÓJDŹWIĘKI

| | | | | | | | | | |
|---|---|---|---|---|---|---|---|---|----|
| 1 | 2 | 3 | 4 | 5 | 6 | 7 | 8 | 9 | 10 |
|---|---|---|---|---|---|---|---|---|----|


ZADANIE 3
NAPISZ GAMĘ **F – DUR** I ZAZNACZ PÓŁTONY




ZADANIE 4
NAPISZ GAMĘ **D – DUR** I ZAZNACZ PÓŁTONY



ZADANIE 5
NAPISZ GAMĘ **e – moll** W ODMIANIE HARMONICZNEJ

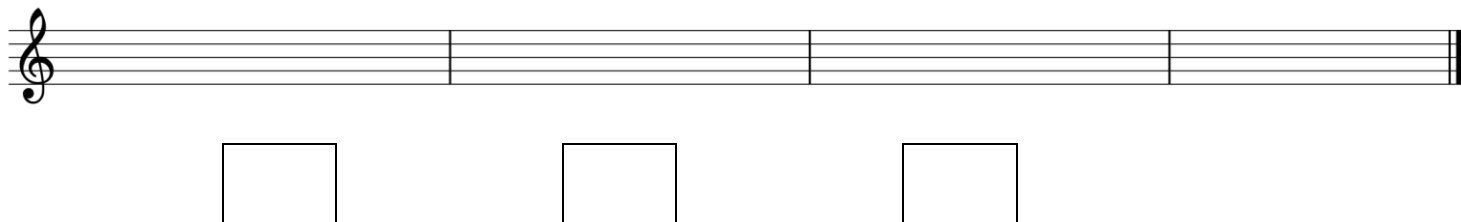


ZADANIE 6
NAPISZ GAMĘ **a – moll** W ODMIANIE EOLSKIEJ



ZADANIE 7

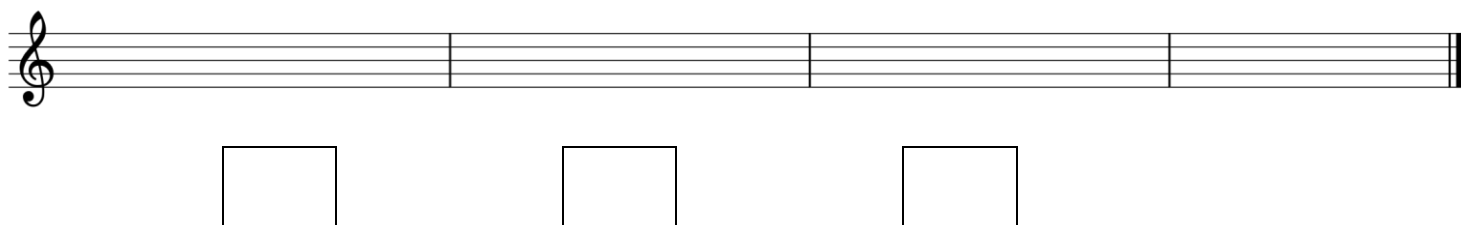
NAPISZ TRIADĘ HARMONICZNĄ W TONACJI **G – DUR** I NAZWIJ TE TRÓJDŹWIĘKI



A musical staff with a treble clef, divided into four measures. Below the staff, there are three empty rectangular boxes for writing notes.

ZADANIE 8

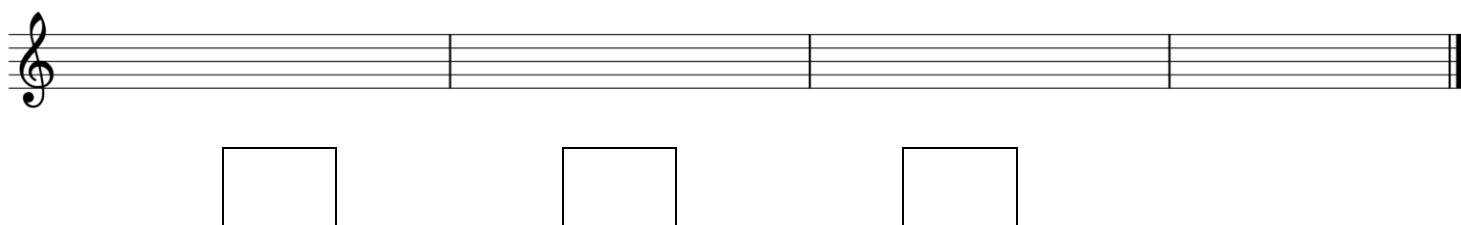
NAPISZ TRIADĘ HARMONICZNĄ W TONACJI **C – DUR** I NAZWIJ TE TRÓJDŹWIĘKI



A musical staff with a treble clef, divided into four measures. Below the staff, there are three empty rectangular boxes for writing notes.

ZADANIE 9

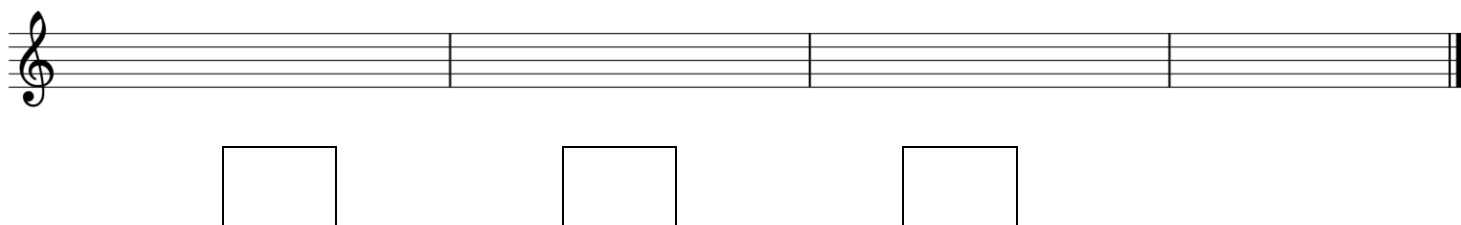
NAPISZ TRIADĘ HARMONICZNĄ W TONACJI **h – moll** I NAZWIJ TE TRÓJDŹWIĘKI



A musical staff with a treble clef, divided into four measures. Below the staff, there are three empty rectangular boxes for writing notes.

ZADANIE 10

NAPISZ TRIADĘ HARMONICZNĄ W TONACJI **d – moll** I NAZWIJ TE TRÓJDŹWIĘKI



A musical staff with a treble clef, divided into four measures. Below the staff, there are three empty rectangular boxes for writing notes.