


ZADANIE 1
ROZPOZNAJ INTERWAŁY

1	2	3	4	5	6	7	8	9	10
---	---	---	---	---	---	---	---	---	----


ZADANIE 2
ROZPOZNAJ TRÓJDŹWIĘKI

1	2	3	4	5	6	7	8	9	10
---	---	---	---	---	---	---	---	---	----


ZADANIE 3
NAPISZ GAME ̄ B – DUR I ZAZNACZ PÓŁTONY




ZADANIE 4
NAPISZ GAME ̄ A – DUR I ZAZNACZ PÓŁTONY



ZADANIE 5
NAPISZ GAME ̄ e – moll W ODMIANIE HARMONICZNEJ

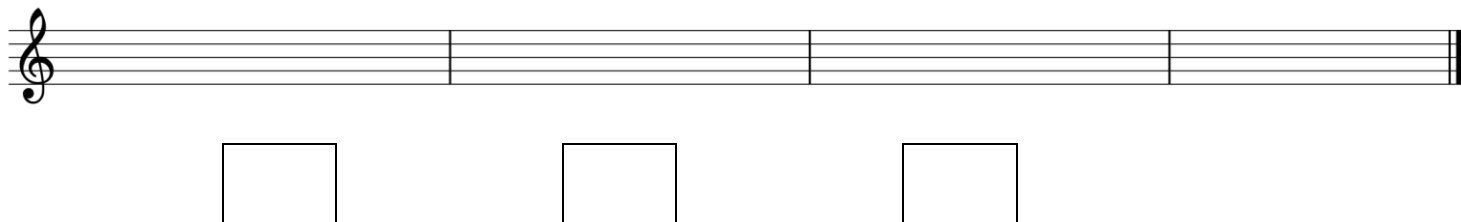


ZADANIE 6
NAPISZ GAME ̄ c – moll W ODMIANIE DORYCKIEJ



ZADANIE 7

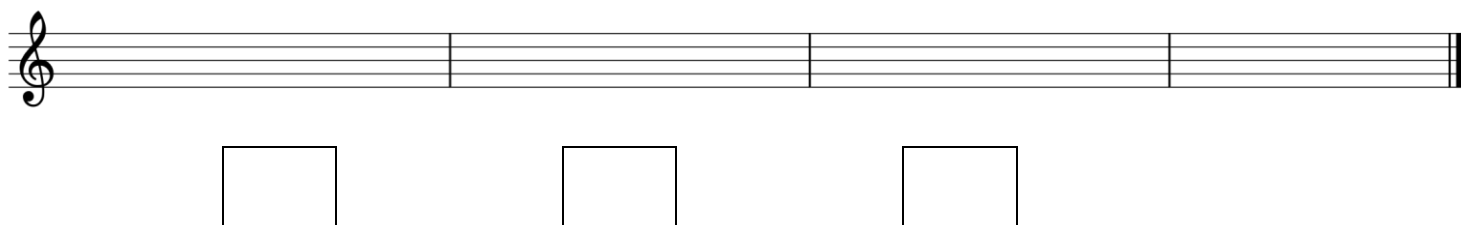
NAPISZ TRIADĘ HARMONICZNĄ W TONACJI **G – DUR** I NAZWIJ TE TRÓJDŹWIĘKI



A musical staff with a treble clef, divided into four measures. Below the staff, there are three empty rectangular boxes for writing notes.

ZADANIE 8

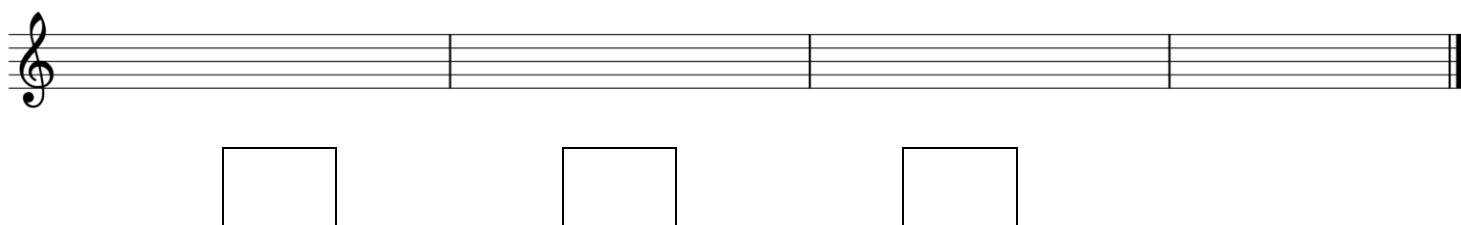
NAPISZ TRIADĘ HARMONICZNĄ W TONACJI **ES – DUR** I NAZWIJ TE TRÓJDŹWIĘKI



A musical staff with a treble clef, divided into four measures. Below the staff, there are three empty rectangular boxes for writing notes.

ZADANIE 9

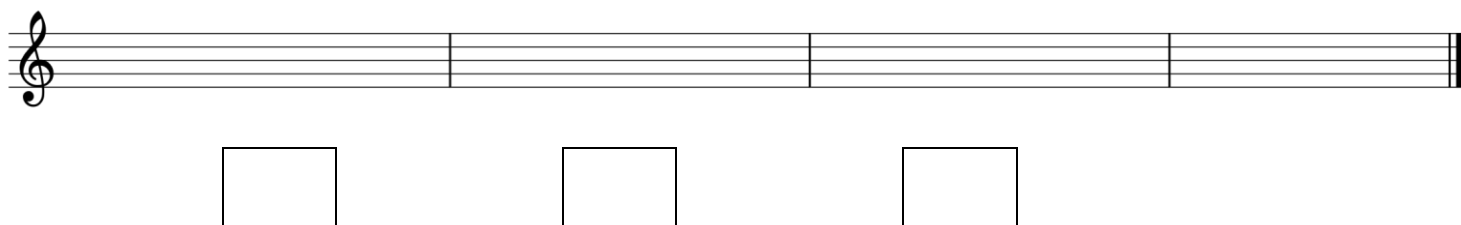
NAPISZ TRIADĘ HARMONICZNĄ W TONACJI **h – moll** I NAZWIJ TE TRÓJDŹWIĘKI



A musical staff with a treble clef, divided into four measures. Below the staff, there are three empty rectangular boxes for writing notes.

ZADANIE 10

NAPISZ TRIADĘ HARMONICZNĄ W TONACJI **g – moll** I NAZWIJ TE TRÓJDŹWIĘKI



A musical staff with a treble clef, divided into four measures. Below the staff, there are three empty rectangular boxes for writing notes.